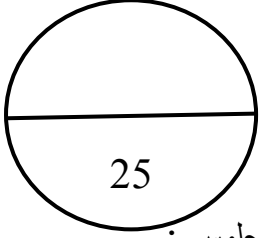


مملكة البحرين

وزارة التربية والتعليم

إدارة الامتحانات / قسم الامتحانات

امتحان نهاية الفصل الأول للعام الدراسي 2015 / 2016م

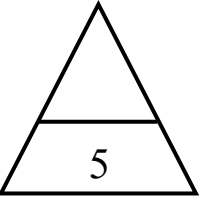


اسم الطالب: _____ الصف: ____ / ____ رقم الجلوس: _____

الزمن: ساعة

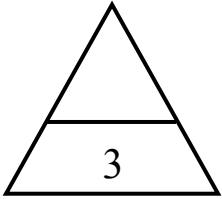
اسم المادة: التربية للمواطنة (للفصل الخامس الابتدائي)

اسم المدرسة: _____ التاريخ: ____ / ____ / 2015م توقيع الملاحظ: _____



السؤال الأول :- ضع علامة (√) أمام العبارة الصحيحة، وعلامة (x) أمام العبارة الخاطئة:-

- 1- تستعمل مياه الصرف الصحي بعد معالجتها في ري المزروعات. ()
- 2- يجب الاتصال بالمرور عند حدوث انقطاع التيار الكهربائي في البيت. ()
- 3- حُسن الحوار والتخاطب نوع من أنواع التسامح الفكري والثقافي. ()
- 4- تُحدّد القيم أنواع السلوك المقبول لدى أفراد المجتمع. ()
- 5- تعتمد مملكة البحرين في توفير احتياجاتها المائية على المياه السطحية. ()



السؤال الثاني :- ضع دائرة حول الحرف الدال على الإجابة الصحيحة من بين البدائل الآتية :-

1- يرتفع معدل استهلاك الكهرباء بمملكة البحرين في:

أ- فصل الصيف. ب- فصل الشتاء.

ج- فصل الربيع. د- فصل الخريف.

2- تقبل وجهات نظر الآخرين على اختلافها يعكس قيمة :

أ- التعاون. ب- الإخلاص.

ج- التسامح. د- الصدق.

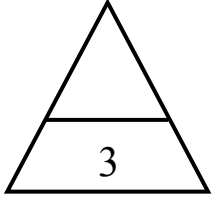
3- معدل استهلاك الفرد من المياه في مملكة البحرين :

أ- أقل من المعدل العالمي. ب- يفوق المعدل العالمي.

ج- مساو للمعدل العالمي. د- قريب من المعدل العالمي.

السؤال الثالث:- ضع نوع التسامح المناسب أمام كل عبارة :

التسامح العرقي - التسامح الفكري - التسامح السياسي



(.....)

1- التخلي عن التمييز العنصري.

(.....)

2- ضمان الحريات السياسية والفردية.

(.....)

3- عدم التعصب للأفكار الشخصية.

السؤال الرابع :- أجب عن الأسئلة التالية:-

1- اكتب أهم القطاعات المستهلكة للكهرباء والماء بمملكة البحرين في المخطط الآتي:

.....

2- اذكر قاعدتين من قواعد ترشيد استهلاك المياه:

..... •
 •

3- ما النتائج المترتبة على استخدامنا للقواعد والطرق السليمة في استهلاك المياه؟

..... •
 •

السؤال الخامس:-

اقرأ المستند، ثم أجب عن الأسئلة التي تليه انطلاقاً منه، وفي ضوء ما درسته:

"...وتكفل الدولة حرمة دور العبادة وحرية القيام بشعائر الأديان والمواكب والاجتماعات الدينية طبقاً للعادات المرعية في البلد."

المادة 22 من دستور مملكة البحرين

1- ما مصدر النص؟

..... ●

2- ما نوع التسامح الوارد في النص؟

..... ●

3- حدد مبدئين مرتبطين بنوع التسامح الوارد في النص؟

..... ●

..... ●

4- ما الجهود التي تبذلها مملكة البحرين لتعزيز قيم التسامح؟

..... ●

..... ●

امتحان نهاية الفصل الأول للعام الدراسي 2016 / 2017م

السؤال الأول:- ضع دائرة حول الحرف الدال على الإجابة الصحيحة من بين البدائل الآتية :

1- احترام الاختلاف في اللون والشكل نوع من أنواع التسامح:

ج- العرقي.

2- معدل استهلاك الفرد من المياه في مملكة البحرين:

أ- يفوق المعدل العالمي.

3- أنجزت مملكة البحرين العديد من المشروعات التطويرية في قطاع الكهرباء بهدف:

ب- ضمان استمراريتها.

4- تؤدي القيم الإنسانية إلى بناء مجتمع:

السؤال الثاني :- ضع علامة (√) أمام العبارة الصحيحة، وعلامة (x) أمام العبارة الخاطئة:

- 1- تعد وزارة الصحة الجهة الحكومية المسؤولة عن إنشاء محطات معالجة مياه الصرف الصحي. (x)
- 2- ينخفض معدل استهلاك الكهرباء في فصل الشتاء مقارنة بفصل الصيف. (√)
- 3- للصدق منزلة عظيمة في كل الأديان. (√)
- 4- تُستعمل مياه الصرف الصحي في مملكة البحرين بعد معالجتها في الاستحمام والتنظيف. (x)
- 5- تعاني المياه الجوفية في مملكة البحرين من مشكلة التملح. (√)

السؤال الثالث :-

- 1- في الجدول الآتي عبارات تمثل القيم في المجتمع، اكتب اسم القيمة المناسبة يمين كل عبارة.

التسامح - التعاون - الإخلاص - الصدق

العبارة	القيمة
أقول الحقيقة دون زيادة أو نقصان.	الصدق
أشارك زملائي في أعمال المجموعات.	التعاون
أقبل وجهات نظر الآخرين.	التسامح
أؤدي عملي بأمانة وإتقان.	الإخلاص

- 2- أمامك مجموعة من العبارات التي تمثل استعمالات الكهرباء والماء صنفها إلى سلوكيات سليمة وغير سليمة

بوضع علامة (√) بجانبها حسب المعطيات الواردة في الجدول الآتي: (4 علامات لكل نقطة علامة)

العبارة	سلوك سليم	سلوك غير سليم
يستعمل أحمد خرطوم المياه لغسل السيارة.		(√)
تغلق أسماء نوافذ البيت في أثناء تشغيل المكيف.	(√)	
تترك خديجة سخان الماء مفتوحا في فصل الصيف.		(√)
يغلق سعيد الأجهزة غير الضرورية في فترة الذروة.	(√)	

السؤال الرابع:- اقرأ المستند، ثم أجب عن الأسئلة التي تليه انطلاقاً منه، وفي ضوء ما درسته: (8 علامات)

تعتبر الطاقة الكهربائية أحد الركائز الأساسية التي تسهم في تسيير أمورنا وأعمالنا، وأحد المصادر الحيوية التي لا يمكن الاستغناء عنها لارتباطها بالعديد من المجالات المهمة والحساسة كالمجال الصحي والصناعي والمنزلي وغيرها؛ لذا ينبغي المحافظة على هذه النعمة العظيمة وترشيد استهلاكها من أجل تقليل كلفة إنتاجها، وتقليل احتمال انقطاعها، وضمان استمراريتها للأجيال القادمة.

(ملاحظة تقبل أي إجابة منطقية)

1- ضع عنواناً مناسباً للنص.

● أي عنوان مناسب ومنطقي. (علامة)

2- ماذا تمثل الطاقة الكهربائية في حياتنا؟ (علامتان)

● أحد الركائز الأساسية التي تسهم في تسيير أمورنا وأعمالنا.

● أحد المصادر الحيوية التي لا يمكن الاستغناء عنها.

3- استخرج من النص فوائد ترشيد استهلاك الطاقة الكهربائية

● تقليل كلفة الإنتاج.

● تقليل احتمال الانقطاع.

● ضمان استمراريتها.

4- تصور لو انقطع التيار الكهربائي عن مدرستك كيف سيكون الوضع؟ (علامتان)

● أي جواب مناسب ومنطقي.